
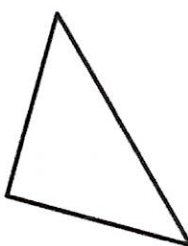
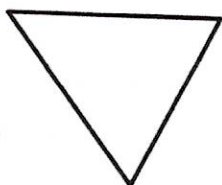
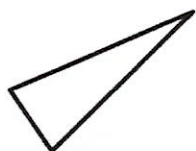


Les triangles CM1 exercices

exercice 1

Code les figures et donne leur nom :



Exercice 2

A l'aide de la règle et du compas,
trace un triangle ABC tel que :
AB=3cm BC=7cm AC=6cm

A l'aide de la règle et du compas,
trace un triangle DEF tel que :
DE=6cm EF=6cm DF=4cm

Que peux-tu dire de ce triangle ?

.....

.....

A l'aide de la règle et du compas,
trace un triangle GHI tel que :
GH= HI= GI=5cm

Que peux-tu dire de ce triangle ?

.....

.....